

**SIMULADÃO  
PM PE**

**CARNAVAL DO  
CONCURSEIRO**

**UM DESFILE DE AULAS GRATUITAS,  
MATERIAIS EM PDFS,  
SIMULADOS, DICAS E LIVES ESPECIAIS**

**VENHA FAZER PARTE DESTE BLOCO DA APROVAÇÃO.**

# PORTUGUÊS

## QUESTÃO 1

Leia a tira.



(Caco Galhardo. Daiquiri. Folha de S.Paulo, 14.11.2017. Adaptado)

De acordo com a norma-padrão, as lacunas da tira devem ser preenchidas, respectivamente, com:

- a) tunel ... consenço ... Porquê?
- b) túnel ... consenço ... Por quê?
- c) tunel ... consenso ... Por que?
- d) túnel ... concenso ... Porque?
- e) túnel ... consenso ... Por quê?

## QUESTÃO 2

Tendo em vistas as regras de acentuação gráfica da Língua Portuguesa, assinale a alternativa que apresenta uma explicação INCORRETA para o uso do acento na palavra em destaque.

- a) "(...) os **indivíduos** passaram a adquirir com o passar do tempo." – o termo destacado é acentuado por apresentar o "i" tônico em hiato.
- b) "É **incrível** e, ao mesmo tempo, muito preocupante." – o termo em destaque recebe o acento por corresponder a uma paroxítona terminada em "L".
- c) "**Será** que têm bagagem suficiente para criticar?" – "será" recebe acento por se tratar de uma oxítona terminada em "a".
- d) "Será que **têm** bagagem suficiente para criticar?" – o verbo "ter", nesse contexto, recebe acento para que haja concordância com seu sujeito.
- e) "**Álcool** faz mal à saúde" – o substantivo em destaque é acentuado por ser uma palavra proparoxítona.

## QUESTÃO 3

Assinale a alternativa em que todas as palavras estão acentuadas corretamente.

- a) açai, impár, música.
- b) essencialmente, caráter, neurônios.
- c) necessário, projéto, específico.
- d) despértam, até, médicos.
- e) saúdam, privilégio, herói.

## QUESTÃO 4

O vocábulo sublinhado no fragmento "Quando o largo horizonte nacional andava borrascoso..." é formado por derivação sufixal. Dos vocábulos abaixo, foi formado por derivação parassintética:

- a) pessimismo.
- b) rodapé.
- c) pé-direito.
- d) madrugador.
- e) enfrentar.

## QUESTÃO 5

Todas as palavras são formadas pelo mesmo processo derivacional de "conquista" em

- a) recato, lucro, algema.
- b) repouso, foco, consenso.
- c) alívio, busca, amparo.
- d) suspeita, engajamento, ânimo.
- e) desgosto, desempenho, experimentação.

## QUESTÃO 6

Em "Um dia se **assentam** perto de você no terraço e dizem uma frase de tal maturidade que você sente que não pode mais trocar as fraldas daquela criatura.", o vocábulo destacado é formado por qual processo formador de palavras?

- a) Derivação sufixal
- b) Derivação prefixal
- c) Derivação prefixal e sufixal
- d) Composição por aglutinação
- e) Composição por justaposição

## QUESTÃO 7

"Sempre há de aparecer este **mas** cruel, esta abominável adversativa que atrapalha tudo!". A palavra destacada é uma:

- a) derivação imprópria.
- b) derivação regressiva.
- c) neologismo.
- d) gíria.
- e) parassíntese.

## QUESTÃO 8

O vocábulo **Sebastianópolis** é formado pelo processo de:

- a) hibridismo.
- b) composição por justaposição.
- c) composição por aglutinação.
- d) derivação sufixal.
- e) onomatopeia.

## QUESTÃO 9

Assinale a alternativa correta em relação à grafia e à acentuação das palavras.

- a) O "Quê", monossílabo tônico, é utilizado em início de frases interrogativas diretas.
- b) O "por quê" é utilizado em início de frases interrogativas indiretas, o que justifica a acentuação gráfica.
- c) Utilizado em posição final de frases exclamativas, "por que" é grafado separado e sem acento gráfico.
- d) Utilizado como conjunção causal em resposta, "porque" é grafado em uma única palavra e sem acento gráfico.
- e) O "por que" sempre é usado no início de pergunta.

## QUESTÃO 10

O texto apresenta um tema para discussão: em seu 1º§ há uma exemplificação do resultado da proposta de registro da língua portuguesa descrita no 2º§. Retomando a correção gramatical, a reescrita do primeiro período do texto é:

- a) Apesar da chuva, muita gente esteve presente ao exercício de ginástica que teve lugar no colégio.
- b) Apesar da chuva, muita gente esteve presente ao exercício de ginástica que teve lugar no colégio.
- c) Apesar da chuva, muita gente esteve presente ao exercício de ginástica que teve lugar no colegio.
- d) Apesar da chuva, muita gente esteve presente ao exercício de ginástica que teve lugar no colégio.
- e) Apesar da chuva, muita gente esteve presente ao exercício de ginástica que teve lugar no colegio.

### QUESTÃO 11

No trecho "Ao fazê-lo, estará exercendo sua cidadania.", ocorre o signo linguístico "fazê-lo", cujo acento gráfico ocorre pelo mesmo motivo que em

- a) "também".
- b) "séculos".
- c) "tecnológicos".
- d) "relevância".
- e) "fenômeno".

### QUESTÃO 12

Em **constrói**, há a necessidade de acentuação gráfica.

Com relação a essas regras, assinale a alternativa que apresente uma palavra com acentuação INCORRETA, por excesso ou falta do acento gráfico.

- a) papéis
- b) anzóis
- c) ideia
- d) colmeia
- e) heróico

### QUESTÃO 13

Na fala do personagem-pai na charge há um erro de acentuação no vocábulo "quê"; a frase em que ocorre o mesmo **erro** ortográfico é:

- a) Há um quê de estranho em tudo isso.
- b) Os políticos roubam, por quê?
- c) O quê? Não estou escutando bem...
- d) O quê da palavra "quero" está mal grafado.
- e) Por quê você não veio, por quê?

### QUESTÃO 14

A palavra "sucuri" não leva acento em sua sílaba tônica.

Assinale a opção que apresenta outra palavra que não recebe acento pela mesma regra.

- a) Lua
- b) Marejado
- c) Caju
- d) Ideia
- e) Rochedo

### QUESTÃO 15

Assinale a frase em que a grafia do vocábulo sublinhado está equivocada.

- a) Por que sentimos calafrios?
- b) A razão porque sentimos calafrios é conhecida.
- c) Qual o porquê de sentirmos calafrios?
- d) Sentimos calafrios porque precisamos defender nossa audição.
- e) Sentimos calafrios por quê?

# MATEMÁTICA

### QUESTÃO 16

A função receita diária, em reais, de determinada empresa de consultoria financeira é dada por  $r(x) = 750x$ , em que  $x$  é o número de consultorias realizadas por dia. Seja a função custo diário  $c(x)$ , em reais, dessa mesma empresa dada por  $c(x) = 250x + 10000$ . O número de consultorias que precisariam ser realizadas, por dia, para que fosse obtido um lucro diário  $L(x)$ , definido como  $L(x) = r(x) - c(x)$ , de 5 mil reais é igual a

- a) 10.
- b) 15.
- c) 20.
- d) 25.
- e) 30.

### QUESTÃO 17

Após licitação, notebooks foram adquiridos por secretaria municipal, no valor unitário de 12 mil reais. Suponha que o preço do equipamento ( $y$ ) seja uma função  $y = mx + n$ , sendo  $x$  o número de anos de utilização do equipamento, com  $m$  e  $n$  parâmetros reais. Considerando que na época inicial ( $x = 0$ ) tem-se que  $y = 12$  mil reais e que para  $x = 7$  o valor de  $y$  é igual a 800 reais, o valor do equipamento para  $x = 4$  é igual a, em reais,

- a) 4200.
- b) 4600.
- c) 5200.
- d) 5600.
- e) 7200.

### QUESTÃO 18

Utilizando o método dos mínimos quadrados, obteve-se a equação de tendência  $Tt = 15 + 2,5t$ , sendo  $t = 1, 2, 3, \dots$ , com base nos lucros anuais de uma empresa, em milhões de reais, nos últimos 10 anos, em que  $t = 1$  representa 2009,  $t = 2$  representa 2010 e assim por diante. Por meio dessa equação, obtém-se que a previsão do lucro anual dessa empresa, no valor de 55 milhões de reais, será para o ano

- a) 2021.
- b) 2025.
- c) 2024.
- d) 2023.
- e) 2022.

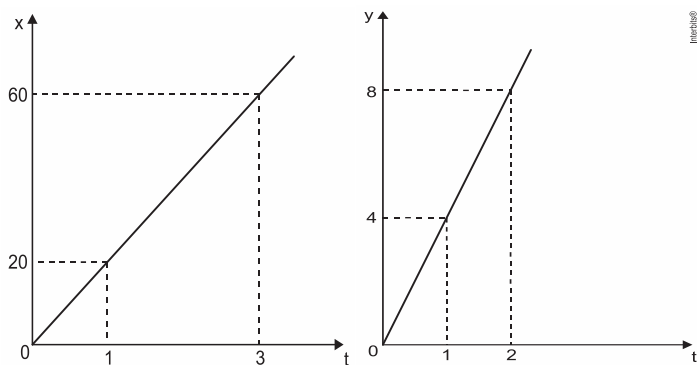
### QUESTÃO 19

Antônio, Beto e Carlos combinaram dividir igualmente as despesas de uma viagem que os três fizeram juntos. Durante a viagem, Antônio pagou R\$ 750,00, Beto pagou R\$ 480,00 e Carlos pagou R\$ 420,00. Ao final da viagem, para dividir igualmente as despesas, Beto deu  $x$  reais para Antônio, e Carlos deu  $y$  reais para Antônio. O valor de  $x + y$  é

- a) 250.
- b) 220.
- c) 200.
- d) 180.
- e) 150.

### QUESTÃO 20

A quantidade  $x$  de peças, em milhar, produzidas e o faturamento  $y$ , em milhar de real, de uma empresa estão representados nos gráficos, ambos em função do número  $t$  de horas trabalhadas por seus funcionários.



O número de peças que devem ser produzidas para se obter um faturamento de R\$ 10.000,00 é

- a) 2.000
- b) 2.500
- c) 40.000
- d) 50.000
- e) 200.000

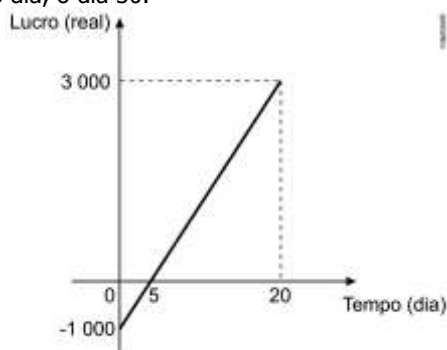
### QUESTÃO 21

João e Pedro alugaram o mesmo modelo de carro, por um dia, em duas locadoras distintas. João alugou o carro na locadora Arquimedes, que cobra R\$ 80,00 a diária, mais R\$ 0,70 por quilômetro percorrido. Pedro alugou na Locadora Bháskara, que cobra R\$ 50,00 a diária, mais R\$ 0,90 por quilômetro percorrido. Ao final do dia, João e Pedro pagaram o mesmo valor total pela locação. Quantos quilômetros cada um percorreu e quanto pagaram?

- a) 150 km e R\$ 185,00
- b) 160 km e R\$ 192,00
- c) 170 km e R\$ 199,00
- d) 180 km e R\$ 206,00
- e) 190 km e R\$ 213,00

### QUESTÃO 22

Em um mês, uma loja de eletrônicos começa a obter lucro já na primeira semana. O gráfico representa o lucro (L) dessa loja desde o início do mês até o dia 20. Mas esse comportamento se estende até o último dia, o dia 30.



A representação algébrica do lucro (L) em função do tempo (t) é

- a)  $L(t) = 20t + 3.000$
- b)  $L(t) = 20t + 4.000$
- c)  $L(t) = 200t$
- d)  $L(t) = 200t - 1.000$
- e)  $L(t) = 200t + 3.000$

### QUESTÃO 23

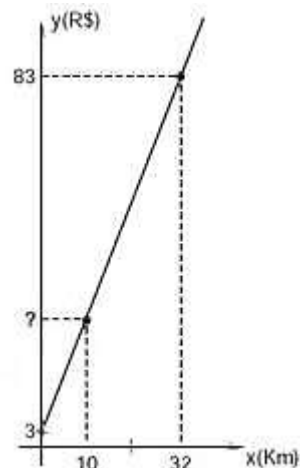
Dois conjuntos A e B, ambos não vazios e com número finito de elementos, são, respectivamente, o domínio e o contradomínio de uma função injetora  $f : A \rightarrow B$ .

Nestas condições, pode-se afirmar que:

- a) A e B devem ter a mesma quantidade de elementos;
- b) A pode ter mais elementos que B;
- c) A pode ter menos elementos que B;
- d) A deve ser subconjunto de B;
- e) B deve ser subconjunto de A.

### QUESTÃO 24

O gráfico abaixo representa o valor pago (R\$) por uma corrida de táxi em função da distância percorrida (km).



Carla precisa se locomover da sua casa até o aeroporto, cuja distância é de 10Km. O valor pago por Carla por essa corrida será de

- a) R\$ 25,00.
- b) R\$ 26,67.
- c) R\$ 28,00.
- d) R\$ 55,33.

### QUESTÃO 25

Seja  $f$  uma função linear tal que  $f(7) - f(3) = 10$

O valor  $f(15) - f(5)$  é

- a) 20
- b) 25
- c) 30
- d) 35
- e) 40



# DIREITO CONSTITUCIONAL

## QUESTÃO 26

Os chamados direitos de primeira geração (ou dimensão) surgiram no século XVIII, e tem como marco histórico a revolução francesa. São exemplos de direitos de primeira geração ou dimensão:

- a) direito à vida e direito à saúde.
- b) direito à liberdade e direito à propriedade.
- c) direito à igualdade e direito à cultura.
- d) direito ao lazer e direito à moradia.
- e) direito à saúde e direito ao meio ambiente saudável.

## QUESTÃO 27

No que concerne aos direitos e deveres individuais e coletivos, a Constituição Federal estabelece que

- a) a criação de associações e, na forma de lei, a de cooperativas dependem apenas de autorização, sendo vedada a interferência estatal em seu funcionamento.
- b) as entidades associativas têm legitimidade para representar seus filiados judicialmente ou extrajudicialmente sem a necessidade de autorização expressa
- c) é livre a manifestação do pensamento, inclusive de forma anônima.
- d) é garantido o direito de propriedade, independente de sua função social.
- e) ninguém será privado de direitos por motivo da crença religiosa ou de condição filosófica ou política, salvo se as invocar para eximir-se de obrigação legal a todos imposta e recusar-se a cumprir prestação alternativa, fixada em lei.

## QUESTÃO 28

De acordo com os direitos e garantias fundamentais responda os itens a seguir:

- a) O direito fundamental à vida também se manifesta por meio da garantia de condições para uma existência digna.
- b) Para fins do direito à inviolabilidade do domicílio, o conceito de casa não abrange locais nos quais são exercidas atividades de índole profissional, como consultórios e escritórios.
- c) As entidades associativas, se expressamente autorizadas ou não, possuem legitimidade para representar seus filiados na esfera judicial.
- d) É plena a liberdade de associação, até mesmo a de natureza paramilitar.
- e) Homens e mulheres são absolutamente iguais em direitos e obrigações.

## QUESTÃO 29

Sobre as associações que tem previsão na Constituição Federal é INCORRETO afirmar que é

- a) é livre o exercício de qualquer trabalho, ofício ou profissão, desde que atendidas as qualificações profissionais que a lei estabelecer.
- b) permitido se reunir pacificamente, sem armas, em locais abertos ao público, independentemente de autorização ou prévio aviso, desde que a iniciativa não frustre outra reunião anteriormente convocada para o mesmo local.
- c) livre a expressão da atividade intelectual, artística, científica e de comunicação, independentemente de censura ou licença.
- d) assegurada, nos termos da lei, a prestação de assistência religiosa nos estabelecimentos penitenciários.
- e) livre a criação de associações e, na forma da lei, a de cooperativas, independentemente de autorização, sendo vedada a interferência estatal em seu funcionamento.

## QUESTÃO 30

Sobre os Direitos e Deveres Individuais e Coletivos definidos na Constituição Federal, é correto afirmar:

- a) É livre a manifestação do pensamento, sendo o anonimato protegido em face do resguardo à integridade física das pessoas.
- b) Em nenhuma hipótese haverá privação de direitos por motivo de crença religiosa ou de convicção filosófica ou política.
- c) A expressão de atividade artística é livre, salvo nos casos em que a lei prevê a necessidade de licença específica.
- d) O sigilo das comunicações telefônicas pode ser violado por determinação judicial nas hipóteses em que a lei estabelecer para fins de instrução processual penal.
- e) É plena a liberdade de associação para fins lícitos, inclusive as de caráter paramilitar.

## QUESTÃO 31

No que concerne aos direitos e deveres individuais e coletivos estendidos aos brasileiros e aos estrangeiros residentes no país, a Constituição Federal estabelece que

- a) É garantida a livre manifestação do pensamento, ainda que na forma anônima.
- b) É assegurada a ampla liberdade de associação, independentemente de autorização dos poderes públicos.
- c) A nossa Constituição proíbe discriminações tanto positivas como negativas.
- d) O direito de reunião não constitui instrumento viabilizador do exercício da liberdade de expressão.
- e) Conforme a jurisprudência do Supremo Tribunal Federal, a gravação de conversa telefônica feita por um dos interlocutores sem o conhecimento do outro não é considerada prova ilícita, desde que ausente causa legal específica de sigilo.

## QUESTÃO 32

Emmanuel, brasileiro naturalizado, verificou a Constituição Federal brasileira a respeito de possível extradição de brasileiro naturalizado. Assim, constatou que, dentre os direitos e deveres individuais e coletivos, está previsto que

- a) nenhum brasileiro será extraditado, salvo o naturalizado, em caso de crime comum, praticado antes ou depois da naturalização, ou de comprovado envolvimento em milícia armada e grupos guerrilheiros.
- b) a extradição de qualquer brasileiro, seja ele naturalizado ou não, consta em diversas hipóteses taxativas do artigo 5º da Carta Magna.
- c) a extradição de qualquer brasileiro, seja ele naturalizado ou não, somente poderá ocorrer em caso de comprovado envolvimento em tráfico ilícito de entorpecentes e drogas afins.
- d) nenhum brasileiro será extraditado, salvo o naturalizado, em caso de crime comum, praticado antes da naturalização, ou de comprovado envolvimento em tráfico ilícito de entorpecentes e drogas afins, na forma da lei.
- e) a extradição de qualquer brasileiro, seja ele naturalizado ou não, somente poderá ocorrer em caso de comprovado envolvimento em tráfico ilícito de entorpecentes e drogas afins, envolvimento em milícia armada e grupos guerrilheiros e prática de ato de terrorismo.

## QUESTÃO 33

À luz do sistema jurídico brasileiro, assinale a alternativa INCORRETA.

- a) A publicidade pode ser empregada como instrumento de propaganda pessoal dos agentes públicos.
- b) A Lei de Acesso à informação pública (Lei nº 12.527/2011) prevê a publicidade como regra, mas admite exceções quando houver: ofensa à intimidade ou privacidade do titular da informação ou quando for indispensável à segurança da sociedade e do Estado.

- c) O tombamento incide sobre bens móveis e imóveis.
- d) A desapropriação-confisco (conforme denominação doutrinária) tem como pressupostos: cultura ilegal de substância psicotrópica ou exploração de trabalho escravo na propriedade rural ou urbana.
- e) O município tem competência privativa para promover a desapropriação urbanística sancionatória.

#### QUESTÃO 34

Isaquel sempre trazia ao seu local de trabalho artigos oriundos de suas pesquisas sobre ciências da saúde, sempre disposto a se expressar sobre os temas de maneira livre e para quem quisesse ouvir. Ocorre que o novo diretor de sua unidade não achou que a atitude de Camilo fosse prudente para os padrões já desenvolvidos pela repartição.

Considerando o caso hipotético acima narrado, tendo por referência a temática dos Direitos e Garantias Fundamentais, constantes na Constituição da República Federativa do Brasil (CRFB), assinale a alternativa que trazer uma conclusão correta quanto ao exposto.

- a) O Diretor está correto em sua perspectiva, já que a liberdade intelectual e científica se vincula necessariamente à função social do exposto, devendo-se ter responsabilidade quanto à consolidação das práticas e metodologias já utilizadas.
- b) Apesar da relevância das atitudes de pesquisa de Camilo, considerando o ambiente na qual elas foram disseminadas, tendo em vista as relações de hierarquia inerentes, a liberdade intelectual e científica estará condicionada à licença do Diretor.
- c) O pensamento do diretor não está correto, pois, no caso narrado, existe claramente uma confusão entre atividade e liberdade intelectual e científica que, no caso da ciência, não depende de licença ou qualquer tipo de censura, tendo em vista que suas produções serão realizadas a partir de métodos científicos rigorosos, justificando seu valor social, o que é relativizado nos casos de mera liberdade intelectual.
- d) Da mesma forma que a artística e de comunicação, é livre a expressão da atividade intelectual e científica, não cabendo nenhum tipo de licença ou censura por parte de qualquer um que seja, sendo autoridade ou qualquer outra pessoa, hierarquicamente superior dentro de uma instituição ou não, dando lastro às ações de Isaquel.
- e) A manifestação de Camilo é absoluta tendo em vista a liberdade de expressão constitucionalmente prevista, esta que não poderá ser feita anonimamente, sobre a qual não caberá qualquer tipo de indenização por dano material, moral ou à imagem.

#### QUESTÃO 35

Assinale a alternativa correta em relação ao disposto no artigo 5º da Constituição da República.

- a) A prática do racismo constitui crime inafiançável e imprescritível, sujeito à pena de detenção, nos termos da lei.
- b) No caso de iminente perigo público, a autoridade competente poderá usar de propriedade particular, mediante prévia indenização ao proprietário.
- c) As associações só poderão ter suas atividades compulsoriamente suspensas por decisão judicial transitada em julgado.
- d) A casa é asilo inviolável do indivíduo, ninguém nela podendo penetrar sem consentimento do morador, salvo em caso de flagrante delito ou desastre, ou para prestar socorro, ou, durante o dia, por determinação judicial.
- e) É livre a manifestação do pensamento, sendo garantido o anonimato.

#### QUESTÃO 36

No que se refere aos direitos fundamentais previstos no art. 5º do texto constitucional de 1988, assinale a alternativa correta.

- a) No processo, são admissíveis as provas obtidas por meios ilícitos.
- b) Constitui crime afiançável e prescritível a ação de grupos armados, civis ou militares, contra a ordem constitucional e o Estado democrático.
- c) Aos autores pertence o direito exclusivo de utilização, publicação ou reprodução de suas obras, intransmissível aos herdeiros.
- d) O acesso à informação é assegurado a todos, inclusive o conhecimento da respectiva fonte, quando necessário ao exercício profissional.
- e) A manifestação do pensamento é livre, sendo vedado o anonimato.

#### QUESTÃO 37

Tiago Xavier, que possuía um programa de rádio, fez uma narrativa extremamente ofensiva à reputação profissional de Maria, que tinha grande reconhecimento junto à coletividade em razão de sua atuação como advogada. Ao tomar conhecimento dos fatos, Maria procurou o seu advogado e foi informada corretamente de que seria possível postular em juízo, de acordo com a sistemática constitucional

- a) apenas a condenação penal de Tiago, em razão da possível prática de crime contra a honra;
- b) o direito de resposta ou, alternadamente, a indenização por dano material, moral ou à imagem;
- c) apenas o direito de resposta, que afasta o dever de reparação de um dano causado em programa de rádio;
- d) o direito de resposta, proporcional ao agravo, além da indenização por dano material, moral ou à imagem;
- e) apenas a indenização por dano moral ou à imagem, que não pode ser cumulada com a indenização por dano material.

#### QUESTÃO 38

Em 2004, foi veiculado um programa televisivo que dramatizava um brutal assassinato ocorrido em 1958, o que levou familiares da vítima a ajuizar uma ação com a pretensão de reparação de danos morais, materiais e à imagem decorrentes da exibição do programa, sustentando o direito ao esquecimento em relação à tragédia familiar ocorrida há tanto tempo. O pedido foi indeferido em primeira e segunda instância e, em recurso extraordinário, o Supremo Tribunal Federal firmou a tese em repercussão geral que o direito ao esquecimento

- a) foi contemplado expressamente pelo texto da Constituição Federal, de modo que deve ser compreendido como o poder de obstar, em razão da passagem do tempo, a divulgação em meios de comunicação social de fatos e dados, ainda que verídicos e lícitamente obtidos, para fins de proteção da honra, da imagem, da privacidade e da personalidade em geral.
- b) é incompatível com a Constituição Federal, de modo que a divulgação de fatos ou dados verídicos e lícitamente obtidos e publicados em meios de comunicação social, não pode ser obstada e tampouco tem a aptidão de gerar responsabilidade civil, por não constituírem excessos ou abusos no exercício da liberdade de expressão ou de informação, a partir dos parâmetros constitucionais, especialmente os relativos à proteção da honra, da imagem, da privacidade e da personalidade em geral.
- c) é incompatível com a Constituição Federal, se entendido como o poder de obstar, em razão da passagem do tempo, a divulgação de fatos ou dados verídicos e lícitamente obtidos e publicados em meios de comunicação social, mas eventuais excessos ou abusos no exercício da liberdade de expressão e de informação devem ser analisados caso a caso, a partir dos parâmetros constitucionais, especialmente os relativos à proteção da honra, da imagem, da privacidade e da personalidade em geral.

- d) foi contemplado implicitamente pelo texto da Constituição Federal, de modo que deve ser compreendido como o poder de obstar, em razão da passagem do tempo, a divulgação em meios de comunicação social de fatos e dados, ainda que verídicos e licitamente obtidos, para fins de proteção da honra, da imagem, da privacidade e da personalidade em geral.
- e) é compatível com o texto da Constituição Federal, e pode, diante da análise caso a caso, implicar no poder de obstar a divulgação de fatos ou dados, ainda que verídicos e licitamente obtidos e publicados em meios de comunicação social, sem prejuízo de eventuais excessos ou abusos no exercício da liberdade de expressão e de informação, a partir dos parâmetros constitucionais, especialmente os relativos à proteção da honra, da imagem, da privacidade e da personalidade em geral.

### QUESTÃO 39

São características dos Direitos Fundamentais

- a) universalidade, indivisibilidade, renunciabilidade, historicidade, aplicabilidade imediata e caráter declaratório.
- b) universalidade, proibição de retrocesso, disponibilidade individual, historicidade, caráter meramente declaratório e imprescritibilidade.
- c) universalidade, irrenunciabilidade, imprescritibilidade, indivisibilidade, proibição de retrocesso, aplicabilidade imediata e caráter declaratório.
- d) universalidade, interdependência, não complementariedade, alienabilidade, renunciabilidade, imprescritibilidade e proibição de retrocesso.
- e) universalidade, irrenunciabilidade, prescritibilidade, indivisibilidade, proibição de retrocesso, aplicabilidade imediata e caráter declaratório.

### QUESTÃO 40

A característica dos direitos Fundamentais que implica o reconhecimento de que os direitos humanos não se perdem pela passagem do tempo, é a

- a) imprescritibilidade.
- b) irrenunciabilidade.
- c) inalienabilidade.
- d) indivisibilidade.
- e) relatividade.



### QUESTÃO 41

Segundo maior parque arqueológico do país, o Parque Nacional do Catimbau, no Sertão, é a primeira referência ao se falar em arte rupestre em Pernambuco. O local, criado em 2002, só fica atrás do Parque Nacional Serra da Capivara, no Piauí. O que pouca gente sabe é que, no estado, há nada menos que 353 locais com grafismos rupestres. A descoberta e mapeamento faz parte do trabalho do departamento de arqueologia da Universidade Federal de Pernambuco (UFPE) e ajuda a esclarecer o período pré-histórico no Nordeste.

Sobre os sítios arqueológicos em Pernambuco, assinale a alternativa incorreta.

- a) Esses sítios de grande valor patrimonial são destruídos irremediavelmente a cada ano, necessitando de um registro de alta precisão que compreenda os dados essenciais à preservação da memória gráfica para pesquisas futuras.

- b) Em Pernambuco, as pinturas rupestres variam desde 2 mil anos atrás até o início da colonização do Brasil, divididos em três horizontes culturais distintos: Tradição Nordeste, Tradição Agreste e Itaquiara.
- c) Apesar da quantidade de sítios arqueológicos espalhados pelo estado, muitos locais deixam de explorar ou mesmo desconhecem a riqueza histórica que guardam.
- d) A arte rupestre dos povos primitivos do Nordeste representa o universo simbólico do homem pré-histórico. Contextualizado em uma sociedade com domínio da escrita, esses registros carregam o significado de uma escrita, trazendo a possibilidade das pessoas de utilizar marcadores de sua presença em determinado local.
- e) A partir dos elementos que marcam essa tradição agreste nas pinturas rupestres, pode-se concluir que os humanos que a pintaram optaram por uma cenografia impactante, tanto na forma como na cor, para representar as figuras com possibilidade de reconhecimento.

### QUESTÃO 42

Observe a seguinte arte rupestre encontrada em Pernambuco.



As pinturas rupestres são o testemunho único que restou da presença indígena na região dizimada pelos colonizadores. São também formas de comunicação usadas pelas sociedades ágrafas, coletoras-caçadoras e também pelos grupos que já conheciam formas simples de fabricar cerâmica.

Essa pintura rupestre apresentada, pode ser classificada pela Tradição:

- a) Agreste.
- b) Sertão.
- c) Itacoatiara
- d) Nordeste.
- e) Litoral.

### QUESTÃO 43

Observe a seguinte arte rupestre encontrada em Pernambuco.



Essa pintura rupestre apresentada, pode ser classificada pela Tradição:

- a) Agreste.
- b) Sertão.
- c) Itacoatiara
- d) Nordeste.
- e) Litoral.



#### QUESTÃO 44

As primeiras pesquisas arqueológicas realizadas na região do Agreste de Pernambuco, com ênfase na microrregião de Arcoverde, nos municípios de Buíque, Venturosa e Pedra, foram efetuadas por Martin (1983); Aguiar (1986); Nascimento (1996); Martin (2005, 2008). Associe corretamente os Sítios Arqueológicos com os respectivos municípios que pertencem.

Sítios Arqueológicos.

1. Sítio Peri-Peri.
2. Sítio de Alcobaça.
3. Sítio Pedra do Tubarão.
4. Sítio Lagoa da Pedra.
5. Pedra da Moça.

Municípios:

- A. Buíque
- B. Venturosa.
- C. Salgueiro.
- D. Bom Jardim.

Assinale a correspondência CORRETA.

- a) 1-B, 2-A, 3-B, 4-C e 5-D.
- b) 1-D, 2-C, 3-A, 4-D e 5-D.
- c) 1-C, 2-C, 3-A, 4-A e 5-B.
- d) 1-B, 2-A, 3-A, 4-B e 5-B.
- e) 1-D, 2-D, 3-B, 4-A e 5-D.

#### QUESTÃO 45

Situado no Agreste de Pernambuco, distante de Recife cerca de 195 km, encontram-se vários sítios arqueológicos, dentre eles a Furna do Estrago, um dos mais importantes sítios no Brasil. Este Sítio Arqueológico está localizado em qual Município?

- a) Gravatá.
- b) Agrestina.
- c) Belo Jardim.
- d) Pesqueira.
- e) Brejo da Madre de Deus.

#### QUESTÃO 46



Foto 1 – Aspecto do Caçoeiro por onde corre o Riacho das Letras.

“A arte rupestre é algo bastante presente no interior no Nordeste brasileiro, seja representada por gravura ou por pinturas. Em algumas localidades é possível encontrar essas manifestações associadas. Noutras, somente a presença de pintura ou de gravuras. No entanto, a maior parte dos sítios arqueológicos existentes no interior do Estado de Pernambuco, encontra-se localizada próxima aos cursos d’água, numa expressa relação ao termo Itacoatiara.”

Fonte: Sítios arqueológicos do município de Flores, Estado de Pernambuco. Disponível em <https://www.gvaa.com.br>.

Sobre os Sítios Arqueológicos no Município de Flores, assinale a alternativa INCORRETA.

- a) O município de Flores, localizado na região do Pajeú, no Estado de Pernambuco, destaca-se entre os demais pela grande quantidade de sítios arqueológicos, contendo gravuras e pinturas, em conjunto ou separadamente.
- b) Nesses sítios é possível identificar diferentes tradições e a maior parte desse acervo arqueológico encontra em local de fácil acesso, exceto a Casa de Pedra, localizada no alto da Serra do Tamboril.
- c) A qualidade das rochas suporte vem comprometendo de forma substancial os grafismos existentes no município de Flores. Associado a esse problema natural, existe a ação inconsciente do homem que promovendo pichações e transformando as gravuras rupestres em alvos para tiros, veem destruindo significativas páginas do passado, que poderiam servir para explicar como os primitivos caçadores coletores viveram naquela região.
- d) Embora existam vários outros sítios arqueológicos naquele município, as manifestações rupestres encontradas no Riacho da Velha, no Rio Pajeú, no Riacho das Letras, na Serra do Tamboril, na Lagoa do Pinheiro, no Vale do Cafundó e nas Serras das Letras. Todos esses sítios arqueológicos é possível encontrar sem nenhum tipo de predação.
- e) A região do canyondo Riacho das Letras, onde se situam os setes locais contendo gravuras, é marcada por encostas abruptas, com diferenças de altitudes da ordem de 200 metros. As encostas abruptas frequentemente exibem paredões rochosos, muitos deles com lapas naturais ainda não estudadas, que constituem potenciais sítios arqueológicos.

#### QUESTÃO 47

Desde o início da pandemia do novo coronavírus (Sars-CoV-2) no Brasil, foram frequentes os alertas de especialistas sobre os impactos que o vírus poderia ter nas periferias das grandes cidades e também nas zonas rurais, especialmente em terras indígenas, quilombolas, ribeirinhas e outras povoações historicamente desassistidas pelo Estado.

Sobre os povos indígenas em Pernambuco, pode-se afirmar, exceto:

- a) No estado de Pernambuco contém dez povos Indígenas, distribuindo entre os municípios de Águas Belas, Pesqueira, Buíque, Cabrobó, Inajá, Petrolândia, Jatobá, Tacaratu, Floresta e Carnaubeira da Penha.
- b) Apesar do contato de mais de cinco séculos com sociedade não Indígena, ainda se conserva traços marcantes, de sua cultura e manifestação religiosa, de origem que os diferencia, sobremaneira da sociedade dos demais povos indígenas do Estado de Pernambuco.
- c) O Estado de Pernambuco, hoje é considerado um dos maiores estados, em população indígenas do país, só perdendo para a Amazonas, Mato Grosso e Pará. A maioria dos grupos indígenas de Pernambuco, tem o mesmo ritmo, só havendo algumas mudanças nas melodias, que imitem palavras de suas línguas maternas.
- d) Em Pernambuco, as etnias que viviam na costa se aliaram aos colonos, compartilhando de seus interesses, em muitos momentos, trocando escravos e escravas por ferramentas, através de alianças pelo laço do casamento, ajudando na instalação dos engenhos e na conquista de novos territórios. Os índios não resistiram ao sistema foram considerados inimigos da Coroa.
- e) O sistema colonial português instaurou uma política indigenista que fragmentou a população nativa em dois grandes grupos: os aliados e aldeados e os não-aliados (tapuia). Para estes últimos considerados inimigos dos portugueses, eram dirigidas ações e representações contrastantes



#### QUESTÃO 48

Sobre as características socioculturais das populações indígenas que habitavam o território do atual estado de Pernambuco, antes dos primeiros contatos euro-americanos, analise as afirmativas a seguir.

- I. Quando os primeiros europeus chegaram ao território brasileiro, no início do século XVI, vários grupos indígenas ocupavam a região Nordeste. No litoral, predominavam as tribos do tronco linguístico tupi, como os Tupinambás, Tabajaras e os Caetés, os mais temíveis.
- II. Como em outras regiões brasileiras, a ocupação do território em Pernambuco começou pelo litoral, nas terras apropriadas para a agroindústria do açúcar, onde os indígenas eram utilizados pelos portugueses como mão-de-obra escrava nos engenhos e nas lavouras, especialmente por parte daqueles que não dispunham de capital suficiente para comprar escravos africanos.
- III. A guerra e a perseguição dos portugueses tornaram-se sistemáticas, fazendo com que os índios sobreviventes tivessem que emigrar para longe da costa. Porém, a criação de gado levou os colonizadores a ocupar terras no interior do Estado, continuando assim a haver conflitos.
- IV. As tradicionais figuras do cacique e do pajé, ainda sobrevivem em todos os grupos, assim como o tore é dançado em todas as comunidades, não apenas como divertimento, mas também na transmissão de traços culturais.

Assinale a alternativa CORRETA.

- a) Apenas II e IV.
- b) II, III e IV.
- c) Todas estão corretas.
- d) I, III e IV.
- e) Apenas III e IV.

#### QUESTÃO 49

“Assim, durante a implantação da colônia portuguesa nas Américas, os padrões culturais europeus eram permeados por um forte sentimento religioso e vigiados duramente pela Igreja Católica que, em terras lusitanas, era controlada pelo Rei. Devido a isto a presença portuguesa desde cedo significou o início da atividade missionária na terra brasilis. Desta forma, o Brasil nasceu à sombra da cruz que representava o poder da Igreja e da espada imposta pela presença de colonos com habilidades de soldados. O esforço era grande para vencer as adversidades da terra e os costumes gentílicos. O primeiro passo foi a imposição da fé cristã, meio considerado mais eficaz para a submissão dos indígenas, por meio das ordens religiosas. Igualmente, a história da colonização da América portuguesa se confunde com a história, dando esforço de promover a evangelização cristã de seus habitantes naturais.”  
Fonte: Sertão, sertões: colonização, conflitos e História Indígena em Pernambuco no período pombalino (1759 – 1798), autoria Elba Monique.

A partir da leitura do texto, pode-se afirmar, exceto:

- a) Os primeiros missionários a iniciar o trabalho de catequese junto aos índios foi a Ordem Franciscana que até 1549 era a única a se dedicar a tal responsabilidade nas terras de Santa Cruz, prestando relevantes serviços à Coroa portuguesa na pacificação dos grupos considerados rebeldes anunciando a doutrina de Cristo.
- b) Depois dos Franciscanos, diversas ordens religiosas foram introduzidas na colônia, dentre elas, se destacaram: os Jesuítas, Capuchinhos franceses e italianos, os Carmelitas e Oratorianos. Sem falar nos sacerdotes seculares que em diversos momentos também administraram aldeamentos que se encontravam sem missionários.
- c) A Companhia de Jesus adotou diversas estratégias para catequização dos indígenas, dentre elas estava a conversão do chefe da comunidade que tinha o poder de influenciar os demais

- d) Em 20 de março de 1570, D. Sebastião proibiu a captura de índios que eram vendidos como escravos, a não ser por “guerra justa”. Contudo, em Pernambuco, antes mesmo da regulamentação da lei sobre a escravização por guerra justa, Mem de Sá, Governador-Geral, já havia decretado a escravização dos Caeté na tentativa de reprimir as ações dos nativos que estavam em guerra contra os portugueses.
- e) A captura, a escravização dos índios e a justificativa para tais atos era a expansão da fé católica e civilização. Os índios contrários ao sistema não resistiriam e buscaram no Sertão um refúgio. No período coincidente com o fim da “guerra dos bárbaros” missões foram fundadas nos sertões, o que mostra como a política dos aldeamentos serviu como barreira de controle para pacificação dos nativos.

#### QUESTÃO 50

Leia o texto a seguir.

Povo indígena brasileiro de língua tupi antiga que habitou o litoral do Brasil entre a ilha de Itamaracá e o rio São Francisco no século XVI. A área que habitavam era limitada ao norte pelas terras dos potiguaras e, ao sul, pelas dos tupinambás. Aliaram-se aos comerciantes franceses que percorriam o litoral brasileiro no século XVI, tornando-se, então, inimigos dos portugueses. Os índios desta comunidade, assim como outros grupos indígenas brasileiros, praticavam a antropofagia ritual, e teriam consumido — de fato trucidaram, porém o consumo posterior é controverso — o primeiro bispo do Brasil, dom Pero Fernandes Sardinha, junto com o donatário do Siará Grande (Ceará) Antônio Cardoso de Barros, cujo navio em que regressava a Portugal naufragou nas costas da foz do rio Coruripe, no atual estado Alagoas, junto a outros cem naufragos.

O fragmento de texto faz referência aos:

- a) Caetés.
- b) Tabajaras.
- c) Carijós.
- d) Tapuia-Cariri.
- e) Xucurus.



#### QUESTÃO 51

Observe a imagem a seguir.



Sobre o processo de formação da Capitania de Pernambuco, assinale a alternativa INCORRETA.

- a) Em 1501, a expedição do navegador Gaspar de Lemos fundou feitorias no litoral da colônia portuguesa. Nessa época, teve início o processo de colonização de Pernambuco.
- b) Entre 1534 e 1536, Dom João III, rei de Portugal, instalou o sistema de Capitanias Hereditárias no Brasil e dentre os primeiros 14 lotes distribuídos estava a Capitania de Pernambuco, chamada de Nova Lusitânia. Seu donatário era Duarte Coelho, que assim a batizou. Em 1535, ele se estabeleceu no local onde fundou a vila de Olinda.
- c) No período colonial o estado tornou-se um grande produtor de açúcar, sendo responsável por mais de metade das exportações brasileiras. Sua prosperidade, entretanto, chamou a atenção dos holandeses, que, entre 1630 e 1654, ocuparam a região, sob o comando de Maurício de Nassau que se estabeleceu no Recife, fazendo-a capital do Brasil holandês.
- d) De acordo com a Carta de Doação passada por D. João III a 10 de março de 1534, o capitão donatário de Pernambuco foi Duarte Coelho, fidalgo que se destacara nas campanhas portuguesas na Índia.
- e) Ao receber a doação, Duarte Coelho partiu para o Brasil com a esposa, filhos e muitos parentes. Ao chegar ao seu lote, fixou-se numa bela colina, construindo uma fortificação (o Castelo de Duarte Coelho), uma capela e moradias para si e para os colonos: seria o embrião de Garanhuns, constituída vila em 1537. Pioneiros na terra foram o seu próprio engenheiro, o do Salvador, e o do seu cunhado, o de Beberibe.

#### QUESTÃO 52

A capitania de Pernambuco, em seu auge territorial, abrangia os atuais estados federados de Pernambuco, Alagoas, Paraíba, Rio Grande do Norte, Ceará e a porção oeste do atual estado da Bahia, região à época denominada "Comarca do Rio de São Francisco". Das alternativas a seguir, qual foi o último território a ser desmembrado de Pernambuco?

- a) Ceará.
- b) Paraíba.
- c) Rio Grande do Norte.
- d) Alagoas.
- e) Comarca de São Francisco.

#### QUESTÃO 53

O processo de ocupação do Recife se inicia, efetivamente, no Século XVII. Olinda, a capital da Capitania de Pernambuco era, em 1630, uma cidade de cerca de 5.000 habitantes, enquanto o Recife, apesar dos 130 anos de colonização portuguesa, se limitava a uma incipiente estrutura urbana que tinha como centro um porto natural para o embarque da produção de açúcar para o continente europeu.

Sobre a origem da expansão do Recife, pode-se concluir, exceto:

- a) No núcleo do Recife, e apoiado no sofisticado traçado da organização urbana colonial do século XVI, se inicia a ocupação holandesa, que marca o início do processo de urbanização da cidade.
- b) O Recife cresce rapidamente pela presença do porto, pelo movimento gerado pelas tropas invasoras e pela transferência de parte da população de Olinda para este núcleo.
- c) A ocupação holandesa se expande sobre o istmo, seguindo as mesmas diretrizes do traçado português, ocupando os terrenos vazios entre o mar e o rio. Nos estreitos lotes de reduzidas quadras longitudinais e paralelas entre si, são erguidos os sobrados, apoiando-se, muitas vezes, sobre uma antiga construção portuguesa, ganhando em altura o que lhe falta de solo

- d) Os esforços para fazer do Recife a capital do Império tomam forte impulso a partir de 1637, com o início do governo do Conde Nassau (1637 a 1644). A densa ocupação da península portuária e as facilidades de comunicação que oferece a ilha de Antônio Vaz levam a reconhecê-la como território de expansão do núcleo portuário, que passa, em 1642, a ser a capital do Império Holandês no Brasil.
- e) A ocupação de Maurícia difere fundamentalmente da então praticada na península do Recife e se inicia em 1639, baseada no plano urbanístico do arquiteto Pieter Post. O plano propõe a construção da primeira ponte da cidade (concluída em 1644) que conecta o núcleo portuário com a ilha de Antônio Vaz. A partir deste elemento se experimenta uma relativa urbanização do território desde o porto.

#### QUESTÃO 54

A expansão baiana ocupou os "sertões de dentro", no atual estado da Bahia. Atravessando o rio São Francisco, povoou sua margem esquerda, que então pertencia à capitania de Pernambuco, atingiu a bacia do Parnaíba, desbravou o sul dos atuais estados do Piauí e do Maranhão, atingindo o Ceará.

Sobre o processo de formação territorial de Pernambuco, observe o mapa e analise as proposições a seguir.



- I. A expansão pernambucana conquistou os "sertões de fora", ou seja, o litoral da Paraíba e do Rio Grande do Norte e depois o interior, chegando também ao Ceará.
- II. A região do vale do rio São Francisco ofereceu as melhores condições naturais para a expansão pastoril.
- III. A penetração do gado pelos sertões nem sempre ocorreu pacificamente.
- IV. A região pastoril do Nordeste abastecia a região açucareira, principalmente Bahia e Pernambuco. Boiadas de 100 a 300 cabeças percorriam o sertão em busca dos centros de consumo. Consumia-se a carne fresca e a carne-seca, também chamada carne-do-ceará, que se tornou um dos produtos mais importantes do comércio interno da Colônia.

Assinale a alternativa CORRETA.

- a) Apenas II e IV.
- b) II, III e IV.
- c) Todas estão corretas.
- d) I, III e IV.
- e) Apenas III e IV.



### QUESTÃO 55

Leia a manchete e o texto seguir sobre o pedido de Federalização de Fernando de Noronha.



“O governo federal protocolou, nessa quinta-feira (24), um pedido de liminar em ação civil ordinária contra o estado de Pernambuco. O documento enviado para o Supremo Tribunal Federal (STF) pede a que a titularidade do arquipélago de Fernando de Noronha seja devolvida à União. Em 2020, o presidente Jair Bolsonaro (PL) afirmou que tentaria federalizar o arquipélago e que faria da região um “polo turístico”. O pedido apresentado por meio da Advocacia-Geral da União (AGU) afirma que Pernambuco está “descumprindo os termos do contrato e embaraçando a atuação da Secretaria de Coordenação e Governança do Patrimônio da União e de órgãos ambientais federais na gestão da área”.

Fonte: Congresso em Foco. Acesso em 29 de abril 2022. <https://congressoemfoco.uol.com.br/area/governo/bolsonaro-pede-federalizacao-de-fernando-de-noronha-no-stf/>

Assinale a alternativa CORRETA sobre o processo de formação territorial de Pernambuco.

- a) Reanexada ao território pernambucano desde a promulgação da Constituição de 1988, a ilha de Fernando de Noronha voltou a ser alvo de disputa entre o Governo de Pernambuco e o governo federal em 2022.

- b) Além das praias, baías e natureza riquíssima, Noronha também reserva outras surpresas para os turistas. São 500 anos de história, que tornam o Arquipélago, além de um Patrimônio Natural, um verdadeiro Patrimônio Histórico que merece ser visitado e, sobretudo, explorado industrialmente e sem preocupação com a sustentabilidade.
- c) Fernando de Noronha aparece no Mapa de Cantino com o nome "Quaresma" apenas no século XX.
- d) Descoberta por Américo Vespúcio, integrante da Expedição Exploratória, comandada por Gonçalo Coelho, Fernando de Noronha foi anexada ao Império Inglês no século XVI.
- e) Doada, em forma de Capitania Hereditária, ao fidalgo português Fernan ou Fernão de Loronha, financiador da Expedição de 1503. Já no ano de 1998, Ilha é entregue à União, para a Instalação de um Presídio Político.

### QUESTÃO 56

A Divisão Regional do Brasil consiste no agrupamento de Estados e Municípios em regiões com a finalidade de atualizar o conhecimento regional do País e viabilizar a definição de uma base territorial para fins de levantamento e divulgação de dados estatísticos. Ademais, visa contribuir com uma perspectiva para a compreensão da organização do território nacional e assistir o governo federal, bem como Estados e Municípios, na implantação e gestão de políticas públicas e investimentos. A partir de 2017, o IBGE apresentou uma nova regionalização. Conforme esta divisão, Pernambuco possui:

- a) 05 Regiões Geográficas Intermediárias.
- b) 04 Regiões Geográficas Intermediárias.
- c) 03 Regiões Geográficas Intermediárias.
- d) 02 Regiões Geográficas Intermediárias.
- e) 06 Regiões Geográficas Intermediárias.

### QUESTÃO 57

A Divisão Regional do Brasil consiste no agrupamento de Estados e Municípios em regiões com a finalidade de atualizar o conhecimento regional do País e viabilizar a definição de uma base territorial para fins de levantamento e divulgação de dados estatísticos. Ademais, visa contribuir com uma perspectiva para a compreensão da organização do território nacional e assistir o governo federal, bem como Estados e Municípios, na implantação e gestão de políticas públicas e investimentos. A partir de 2017, o IBGE apresentou uma nova regionalização. Conforme esta divisão, Pernambuco possui:

- a) 18 Regiões Geográficas Imediatas.
- b) 17 Regiões Geográficas Imediatas.
- c) 16 Regiões Geográficas Imediatas.
- d) 15 Regiões Geográficas Imediatas.
- e) 14 Regiões Geográficas Imediatas.

### QUESTÃO 58



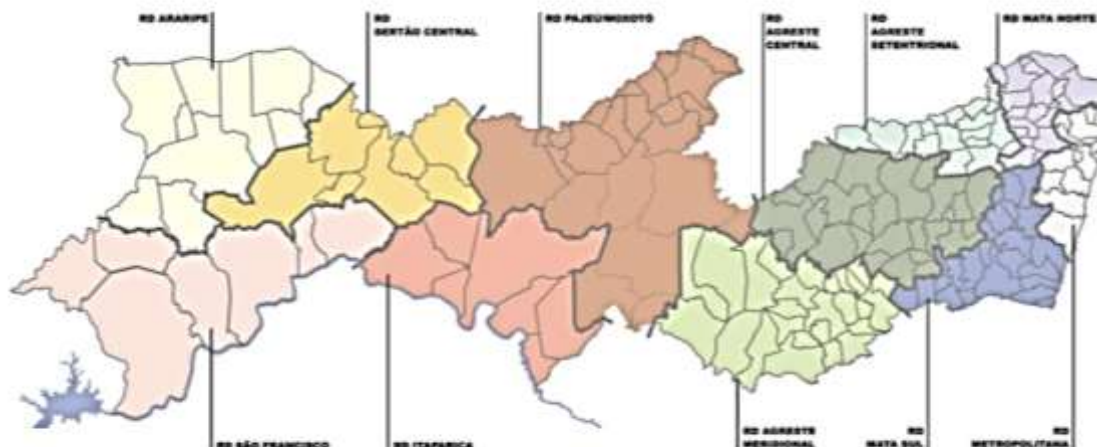
Fonte: IBGE - Elaboração: Agência Condepe/Fidem

A Divisão Regional do Brasil consiste no agrupamento de Estados e Municípios em regiões com a finalidade de atualizar o conhecimento regional do País e viabilizar a definição de uma base territorial para fins de levantamento e divulgação de dados estatísticos. Ademais, visa contribuir com uma perspectiva para a compreensão da organização do território nacional e assistir o governo federal, bem como Estados e Municípios, na implantação e gestão de políticas públicas e investimentos. A partir de 2017, o IBGE apresentou uma nova regionalização. Conforme esta divisão, Pernambuco, as antigas Mesorregiões Metropolitana e Agreste foram substituídas, respectivamente, pelas:

- Regiões Geográficas Intermediárias de Serra Talhada e Recife.
- Regiões Geográficas Intermediárias do Caruaru e Recife
- Regiões Geográficas Intermediárias do Recife e Caruaru.
- Regiões Geográficas Intermediárias de Serra Talhada e Petrolina.
- Regiões Geográficas Imediatas de Recife e Caruaru.

### QUESTÃO 59

Observe o mapa a seguir.



Fonte: Agência Condepe/Fidem

Sobre a formação das Regiões de Desenvolvimento, analise as assertivas a seguir.

- De 1946 a 2003 foram elaborados por órgãos da administração estadual, federal e por acadêmicos estudos e propostas de regionalização para o Estado de Pernambuco.
- No período de 1999 a 2003, foram adotadas duas regionalizações com dez e onze regiões até se chegar à atual, fruto de estudo das diversas regionalizações existentes, complementada por base técnica e conceitual, principalmente quanto aos fundamentos da política de desenvolvimento local, com a finalidade de implantar um processo de planejamento descentralizado e participativo.
- Neste processo de criação das 10 Regiões de Desenvolvimento (RDs), foram considerados os seguintes aspectos: Base físico-geográfica do IBGE: foram mantidas as 05 Mesorregiões do IBGE: Metropolitana, Mata, Agreste, São Francisco e Sertão e as 19 Microrregiões foram agrupadas, em Unidades Territoriais de Planejamento denominadas Regiões de Desenvolvimento (RDs);
- A partir de reivindicações dos atores locais durante realização de fóruns regionais alegando identidades distintas (cultura, política, território e economia) entre o Pajeú e o Moxotó, foi desmembrada a região em duas: RD Pajeú e RD Moxotó. Foi, então, criada a 12ª Região de Desenvolvimento, com a Lei Estadual nº12.427 de 25/09/2003 – PPA 2004-2007.

Assinale a alternativa CORRETA.

- Apenas II e IV.
- II, III e IV.
- Todas estão corretas.
- I, III e IV.
- Apenas III e IV.

### QUESTÃO 60

A cidade de Araripina se desenvolveu muito nos últimos anos por conta de alguns fatores, como por exemplo, por ser o maior município da tríplice fronteira entre os estados de Pernambuco, Piauí e Ceará, a grande produção de gesso na região onde o município é sede de indústrias, mineradoras e fábricas de pré-moldados, a concentração de serviços que são buscados diariamente por a população da zona rural e de cidades vizinhas, na educação, saúde e comércio, o município conta com várias lojas e estabelecimentos comerciais conhecidas na região e no país. Araripina, juntamente com Ouricuri, Ipubi, Bodocó e Trindade, constitui o maior polo gesseiro do Brasil, responsável por 95% do gesso consumido no país.

Pode-se afirmar que Araripina pertence à seguinte Região de Desenvolvimento:

- RD Sertão Central.
- RD Sertão do Moxotó.
- RD Sertão do Pajeú.
- RD Araripe.
- RD São Francisco.



UMA HISTÓRIA  
DE MUITAS  
APROVAÇÕES



PM PE 2018

1 lugar geral

+250

Classificados  
entre  
as vagas!

EP APROVA

